

## TURINYS


<b>KA JAU MOKU?</b> .....	/ 8
KAIRĖ. DEŠINĖ .....	/ 8
DIDESNIS, AUKŠTESNIS. MAŽESNIS, ŽEMESNIS .....	/ 10
APSKRITIMAS. TRIKAMPIS. SKRITULYS.	
KVADRATAS. STAČIAKAMPIS .....	/ 12
AR MOKU SKAIČIUOTI? .....	/ 14
<b>SKAIČIAI IKI 9. SUDĖTIS</b> .....	/ 16
VIRŠ, PRIEŠ, PO, UŽ, ŠALIA, VIDURY .....	/ 18
KAIP SKAIČIUOTI IKI 9? .....	/ 20
KAIP ŽINOTI, KURIŲ DAIKTŲ YRA DAUGIAU? .....	/ 22
KAIP PALYGINTI SKAIČIUS? .....	/ 24
AR JAU MOKU? .....	/ 26
KAIP SUDĖTI? .....	/ 28
SUDĖTIS IKI 5 .....	/ 30
SUDĖTIS IKI 9 .....	/ 32
KAIP SPRĘSTI UŽDAVINĮ? .....	/ 34
KAIP SPRĘSTI UŽDAVINĮ? .....	/ 36
AŠ JAU MOKU! .....	/ 38
<b>SUDEDAME IR ATIMAME SKAIČIUS IKI 9</b> .....	/ 40
KAIP ATIMTI? .....	/ 42
ATIMTIS IKI 5 .....	/ 44
ATIMTIS IKI 9 .....	/ 46
KAIP SPRĘSTI UŽDAVINĮ? .....	/ 48
KAIP SPRĘSTI UŽDAVINĮ? .....	/ 50
AR JAU MOKU? .....	/ 52

NULIS .....	/ 54
SKAIČIŲ KEITIMAS VIETOMIS .....	/ 56
KIEK PRIDĖTI? PRIE KO PRIDĖTI? .....	/ 58
KIEK ATIMTI? .....	/ 60
IŠ KO ATIMTI? .....	/ 62
KAIP SUDĖTI TRIS SKAIČIUS? .....	/ 64
KAIP ATIMTI DU SKAIČIUS? .....	/ 66
AŠ JAU MOKU! .....	/ 68
<b>MATUOJAME. SKAIČIUOJAME. VAIZDUOJAME</b> .....	/ 70
KAIP MATUOTI LINIUOTE? .....	/ 72
TAŠKAS. ATKARPA .....	/ 74
KAIP NUBRAIŽYTI TRIKAMPĮ? .....	/ 76
KAIP NUBRAIŽYTI STAČIAKAMPĮ? .....	/ 78
KUBAS .....	/ 80
RUTULYS .....	/ 82
AŠ JAU MOKU! .....	/ 84
<b>MATEMATIKA APLINK MUS. PROJEKGINĖ VEIKLA</b> .....	/ 86
<b>PRIEDAS</b> .....	/ 90

# KAIP ŽINOTI, KURIŲ DAIKTŲ YRA DAUGIAU?



1. Ko yra daugiau: teptukų ar indelių?



2. Įdėkim į kiekvieną indelį po teptuką. Ko liks, to ir bus daugiau.



3. Vienas indelis liko tuščias. Taigi indelių yra daugiau negu teptukų.



4. Taip, teptukų yra mažiau negu indelių.





5. Įdėjau teptuką.





6. Dabar indelių ir teptukų yra po lygiai.



1. Pasakykite, kuriame langelyje kurių daiktų yra mažiau, o kurių daugiau.



2. Kurių daiktų yra po lygiai?



- Ko yra daugiau: trikampių ar kvadratų?
- Ko yra mažiau: kvadratų ar skritulių?
- Ko yra po lygiai?




# KAIP SPREŠTI UŽDAVINĮ?

**1. Paaiškink, kaip spęsi uždavinį: pasakyk trūkstamus žodžius ir skaičius.**

**PERSKAITAU**  
1 žingsnis

Vienoje pieštukinėje 6 pieštukai, kitoje 3. Kiek iš viso pieštukų yra šiose pieštukinėse?



**SUPRANTU**  
2 žingsnis

**Ką žinau?**  
Yra  pieštukai ir  pieštukai.  
**Ką reikia sužinoti?**  
Reikia sužinoti, .....

**PLANUOJU**  
3 žingsnis

**Ką darau?**  
Sugalvoju, koku veiksmu skaičiuosiu.

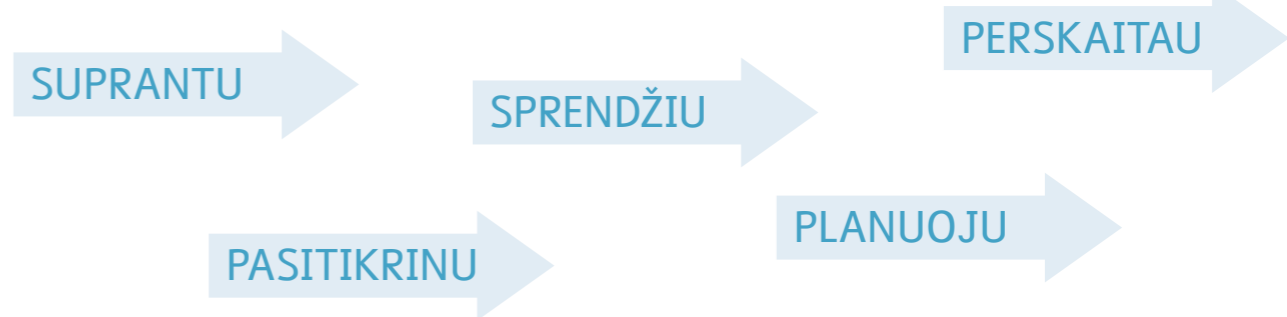
**SPRENDŽIU**  
4 žingsnis

**Užrašau veiksmą ir suskaičiuoju.**  
 +  =

**PASITIKRINU**  
5 žingsnis

**Pasitikrinu.**  
Ar atidžiai perskaičiau uždavinį?  
Ar uždavinį supratau?  
Ar parinkau tinkamą veiksmą?  
Ar teisingai suskaičiavau?

**2. Čia surašyti 5 uždavinio sprendimo žingsniai. Išvardykite juos eilės tvarka.**



**3. Pasirink vieną uždavinį. Išspręsk jį remdamasis 5 žingsniais (žr. p. 36).**

• Geltonų sąsiuvinių yra . Žalių sąsiuvinių yra .  
Kiek sąsiuvinių yra iš viso?



• Lietuvių kalbos vadovėlių yra . Matematikos vadovėlių yra .  
Kiek vadovėlių yra iš viso?



Savais žodžiais paaiškink, kokia tvarka spęsi uždavinį.