

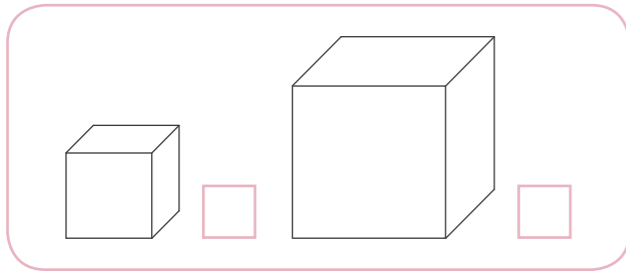
KĄ JAU MOKU?

1. Knygos dešinėje nupiešk pieštuką.




2. Pažymėk ✓

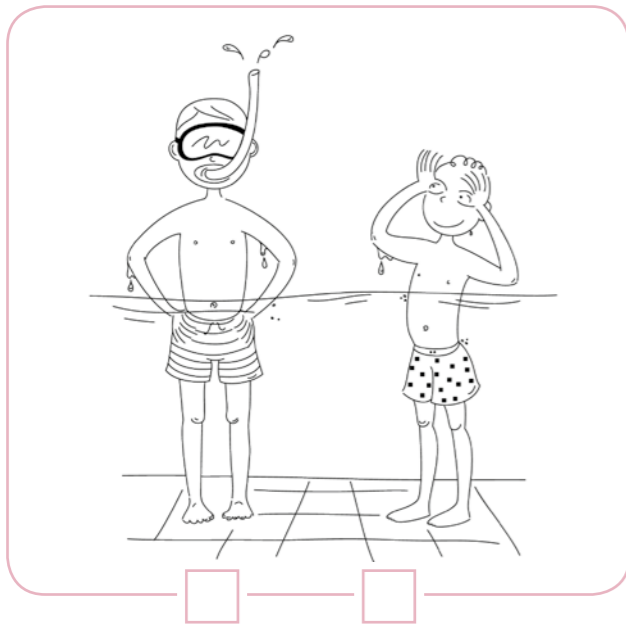
• didesnį kubą;



• mažesnį siūlą kamuolį;



• aukštesnį berniuką;

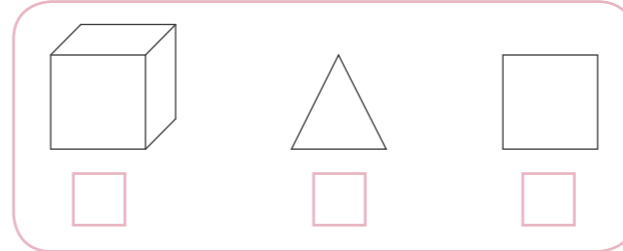


• žemesnę mergaitę.

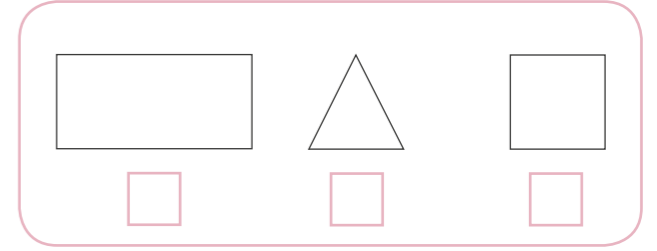


3. Pažymėk ✓

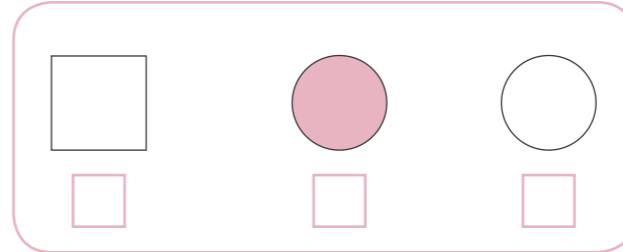
• kvadratą;



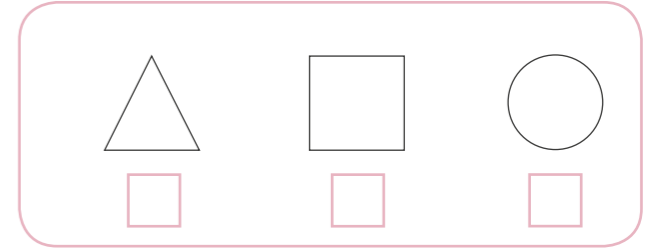
• trikampį;




• skritulį;



• apskritimą.



4. Simas lentoje nupiešė stačiakampį, trikampį ir apskritimą. Nupiešk tą patį ir tu.



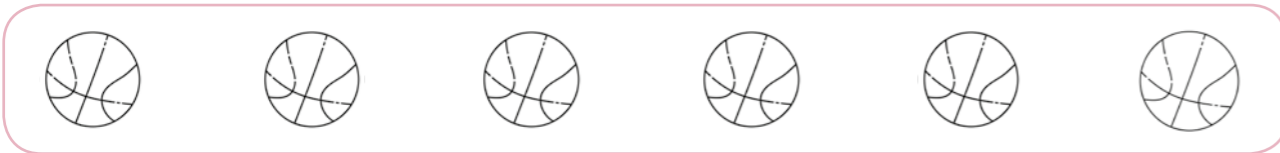
5. Skaiciai turi būti surašyti nuo 1 iki 10. Įrašyk praleistus skaičius.



- Nuspalvink geltonai skaičius: du, penki, šeši, aštuoni.
- Nuspalvink raudonai skaičius: keturi, septyni, devyni.

6. Apibrauk


- 2 kamuolius;



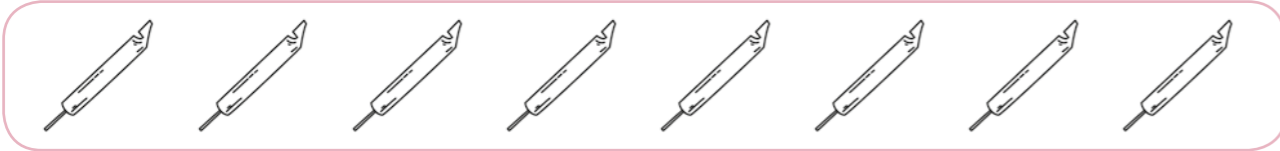
- 1 medį;



- 4 žuvis;



- 5 švilpynes.



7. Apibrauk tokį skaičių, kiek obuolių yra iš viso.



2 3 1 6

SKAIČIAI IKI 9. SUDĖTIS

1. Remdamasis paveikslėliu įrašyk į sakinius trūkstantus žodžius. Juos parink iš šio sąrašo: už, prieš, ant.

2 taškai

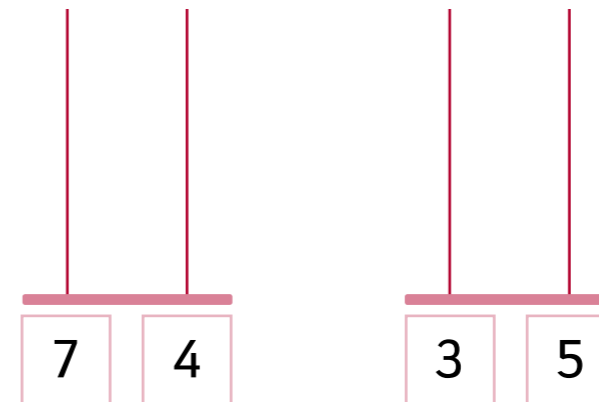


Lapė yra medį.

Kiškis yra medžio.

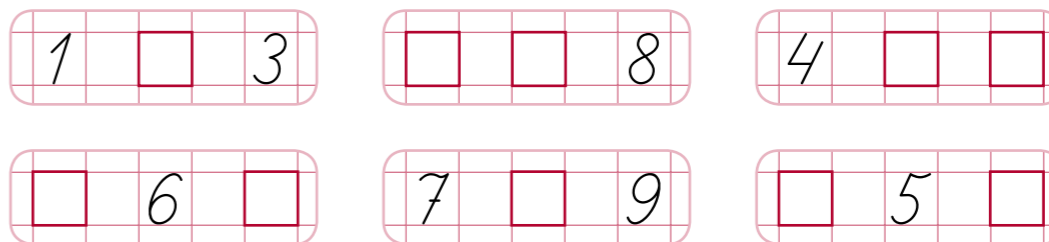
2. Ant kiekvieno virbo nupiešk po nurodytą skaičių karoliukų.

4 taškai



3. Kiekvienoje kortelėje skaičiai turi būti surašyti iš eilės. Įrašyk trūkstantus skaičius.

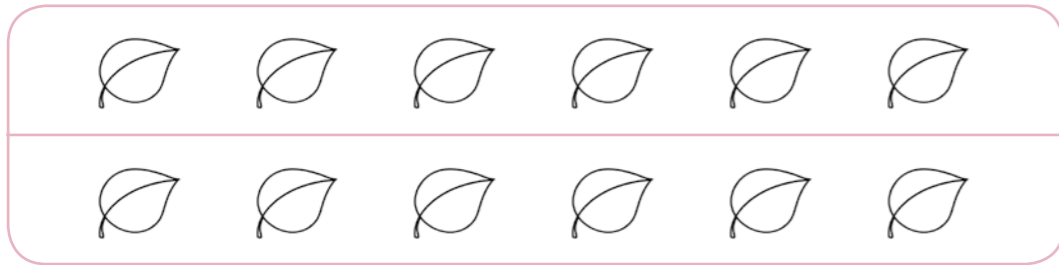
6 taškai



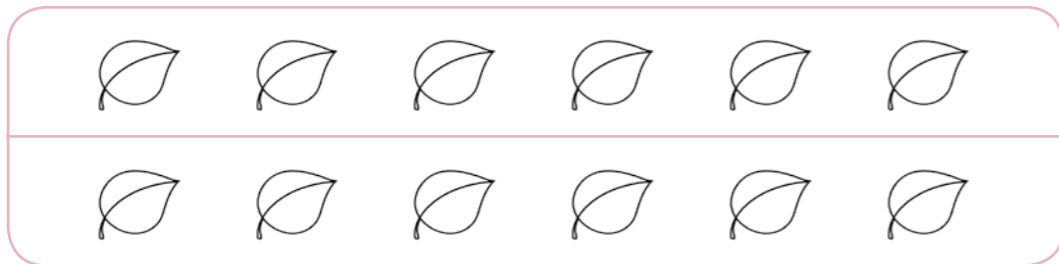
4. Nuspalvink tiek lapų, kad:

3 taškai

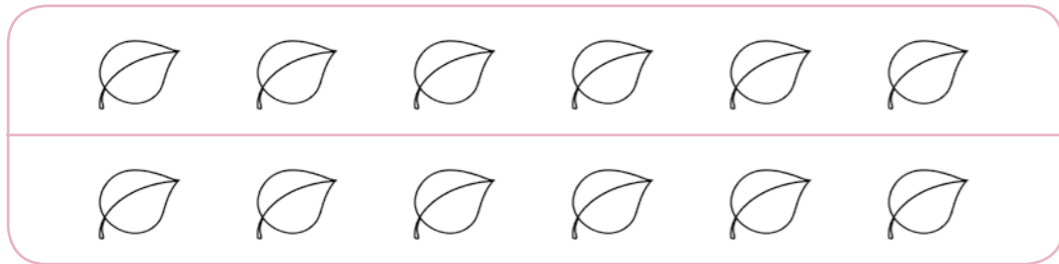
- pirmoje eilutėje nuspalvintų lapų būtų daugiau negu antroje;



- antroje eilutėje nuspalvintų lapų būtų mažiau negu pirmoje;

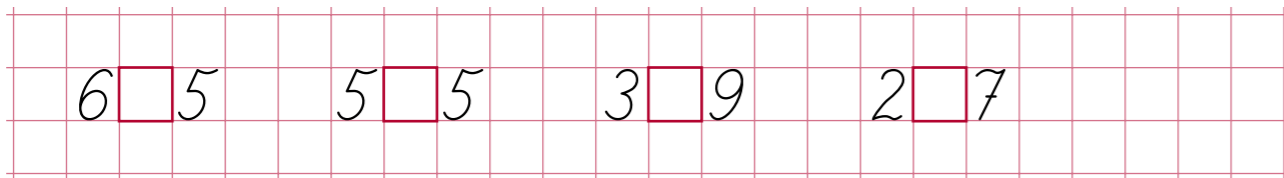


- abiejose eilutėse nuspalvintų lapų būtų po lygiai.



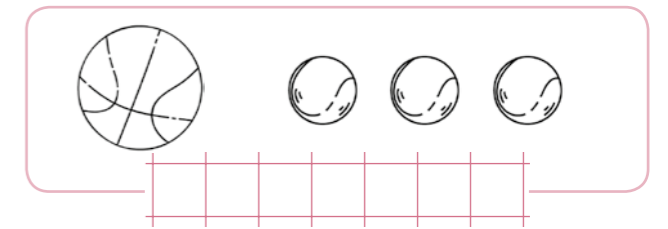
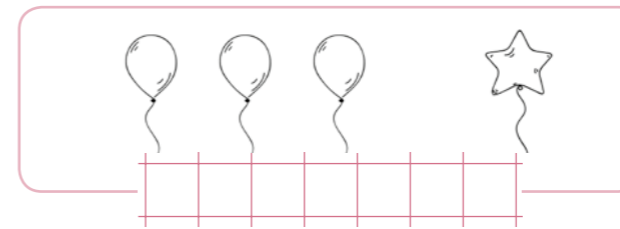
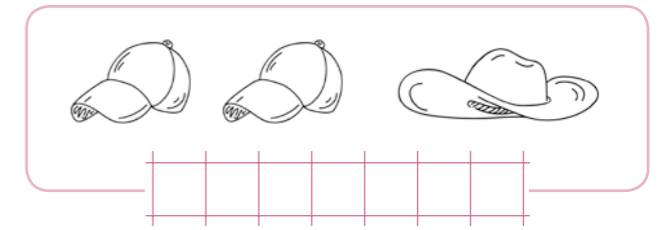
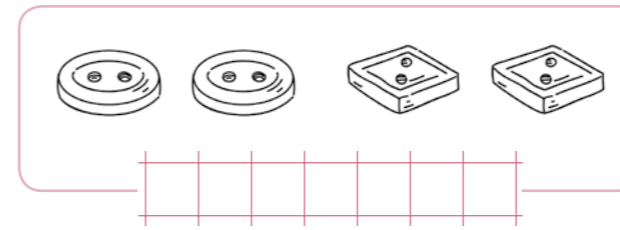
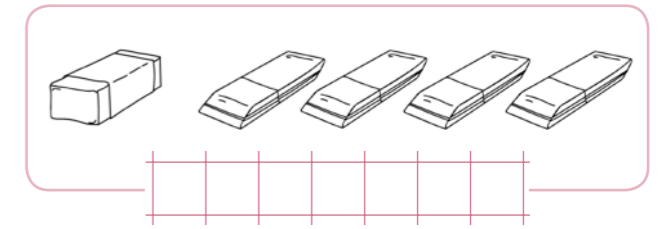
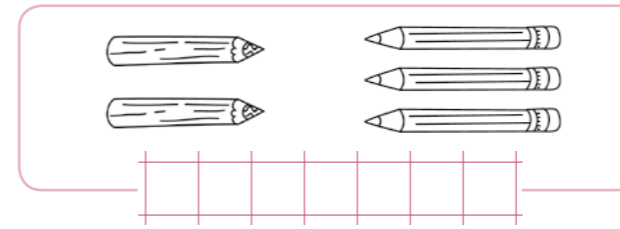
5. Palygink skaičius. Įrašyk tarp jų reikiamą ženklą: <, >, arba =.

4 taškai



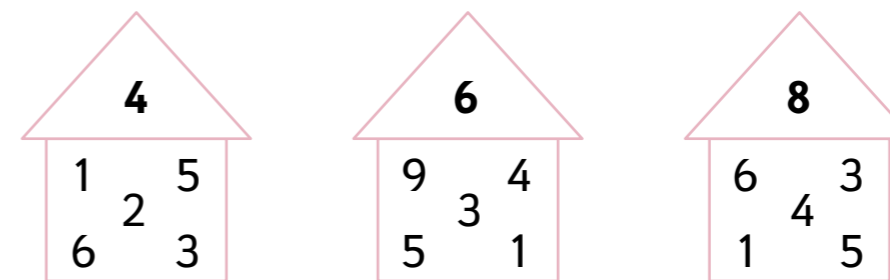
6. Užrašyk ir atlik pavaizduotus sudėties veiksmus.

6 taškai



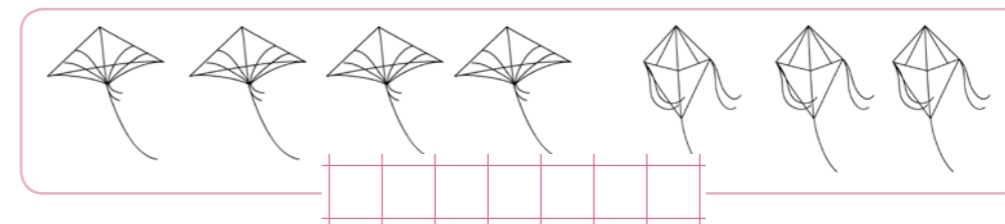
7. Apibrauk du skaičius, kuriuos sudėjęs gautum stogelyje parašytą skaičių.

3 taškai



8. Morta nupiešė 4 aitvarus, Titas 3 aitvarus. Kiek iš viso aitvarų nupiešė Morta ir Titas?

2 taškai



Apmąstau ir įsivertinu kiekvieną atliktą užduotį.

| Nr. | TEIGINYS | ☹ | ☺ |
|-----|---|---|---|
| 1. | Nusakiau gyvūno vietą. | ○ | ○ |
| 2. | Pavaizdavau nurodytą skaičių daiktų. | ○ | ○ |
| 3. | Surašiau skaičius eilės tvarka. | ○ | ○ |
| 4. | Nustačiau, ko yra daugiau, mažiau, po lygiai. | ○ | ○ |
| 5. | Palyginau skaičius. | ○ | ○ |
| 6. | Sudėjau skaičius iki 5. | ○ | ○ |
| 7. | Sudėjau skaičius iki 9. | ○ | ○ |
| 8. | Išsprendžiau uždavinį. | ○ | ○ |

Galėjai surinkti 30 taškų. Surinkai _____.

| 0–9 taškai | 10–14 taškų | 15–25 taškai | 26–30 taškų |
|----------------------|---|--|---|
| Tau reikia pagalbos! | Atkreipk dėmesį į tai, ką būtina išmokti! | Tau sekasi gerai! Pagalvok, kaip galėtum pasiekti dar daugiau. | Tavo pasiekimai puikūs. Šauniai padirbėjai! |


KOMENTARAI:

SUDEDAME IR ATIMAME SKAIČIUS IKI 9


1. Užrašyk ir atlik pavaizduotus veiksmus.

6 taškai

Pridėjo




Atėjo



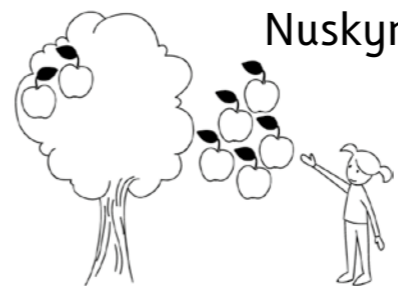
Atskrido



Išvedė



Nuskynė



Išvažiavo